



Rallye piéton Grisy Suisnes



Pour réaliser ce parcours, tu t'aideras de ce road book (plan de route) et du plan de la ville.

Étape 1 : 1^{ers} meneurs

- Départ en face du musée de la rose



Recopie l'inscription gravée au-dessus de la porte :

.....

Et trouve l'ancienne fonction de ce bâtiment

.....

Cherche la ou les photographies anciennes qui correspondent à cette maison .



En sortant du **Musée de la Rose**, tu prendras en face la **rue saint Médard** jusqu' à la **rue de la Libération** que tu prendras (à gauche).

Observe bien **la maison** qui se trouve **au numéro 9** de cette rue et essaie de relier (par une flèche) un nom à chacune des parties de la maison (attention aux intrus) :

<p>Une faîtière</p> <p>Une gouttière</p> <p>Un perron</p> <p>Un vitrail</p> <p>Une chatière</p>		<p>Une cloche</p> <p>Le portail</p> <p>Une marquise</p> <p>Un garde-corps</p> <p>Une lucarne</p>
---	---	--

Étape 2 : 2èmes meneurs

Continue dans **la rue de la Libération** puis prends la ruelle que tu trouveras à droite.



Dans la ruelle, tourne à droite et rejoins la rue **madame Hégot**.

A partir du moment où tu sortiras de la ruelle, tu pourras observer des bornes charretières dans différentes rues.




Traverse la **rue madame Hégot** vers la **rue de la république**.
Sur la **place Pasteur**, continue à gauche dans la **rue Paul Doumer**.

Traverse en face du porche, observe les bornes charretières et prends la **rue de Verdun** et tourne à gauche dans la **rue de Villemain**.
Ensuite à droite dans la **ruelle de la fontaine Houdart** que tu descendras jusqu'au lavoir.



Lavoir de la
fontaine Houdart



Associe le nom et la définition de chaque objet utilisé autrefois dans les lavoirs en notant la lettre qui convient.

<p>Battoir : outil en bois avec lequel la lavandière battait le linge</p>	
<p>Planche à laver : le linge y est posé pour être battu</p>	
<p>Cuvier : baquet en bois dans lequel le linge était lavé.</p>	
<p>Carrosse : caisse en bois à trois côtés contenant de la paille ou des vieux morceaux de tissu pour protéger les genoux de la lavandière lorsqu'elle lavait le linge à la rivière.</p>	
<p>Vouillette : récipient à long manche pour le coulage manuel de la lessive sur le linge</p>	
<p>Pinces à linges en bois : pinces pour accrocher le linge sur un fil.</p>	

En remontant cette même ruelle, tourne à droite pour prendre la **venelle** (passage étroit) juste au-dessus qui te permettra de rejoindre la **rue de la légalité**.

Étape 3 : 3èmes meneurs




Quels sont les véhicules autorisés à emprunter cette venelle ? (entoure la ou les bonnes réponses)

- Vélo
- Moto
- Voiture
- piéton


Église :



Retrouve la girouette que tu vois sur le clocher de l'église.



A partir de cette photo ancienne, retrouve ce monument et va jusqu'à son entrée principale en traversant le terre-plein en herbe.



Retrouve les mots écrits sur le Beffroi et coche-les.

- Paris
- Beffroi
- Fraternité
- Egalité
- Liberté
- France
- Grisy Suisnes

Sur la place de la mairie



Écris le nom de ce bâtiment :

.....

Parmi ces photos anciennes, coche celle ou celles qui correspondent à ce monument.



Étape 4 : 4èmes meneurs

Traverse la rue puis passe derrière la mairie pour arriver rue **madame Hégot**.

Cherche cette maison, sur le mur tu verras un anneau, à quoi pouvait-il servir ?



Entoure la ou les bonnes réponses ;

Cet anneau sert :

- à fixer une cloche
- À s'accrocher quand il neige
- À attacher son cheval
- À attacher le chien de garde
 - À rien
 - À faire joli

Continue dans la **rue Madame Hégot** puis tourne à droite dans l'**avenue du maréchal Joffre** et va jusqu'au passage piéton pour traverser en toute sécurité.

Continue dans la rue du **Maréchal Joffre** dans laquelle tu chercheras ce point d'eau dont voici un élément.



A quoi sert un château d'eau ?

- C'est une piscine pour les oiseaux
- C'est un réservoir qui permet d'alimenter en eau toutes les habitations
- C'est une ancienne tour de château fort pour guetter les ennemis
- C'est une tour qui permet aux gendarmes de surveiller la ville

Puis tourne à gauche dans la **rue de la gare** et retourne au *musée de la Rose*.



Au cours de ce rallye, tu auras peut être vu cet élément.



A quoi sert-il ? coche la ou les bonnes réponses.

- pour gratter ses chaussures
- pour mesurer ses pieds
- pour attacher son chien
- pour attacher son vélo
- pour enlever ses bottes
- pour attacher son cheval
- pour poser son parapluie

A quoi servaient les bornes charretières ?



- A s'asseoir
- A décorer les rues et les entrées des maisons
- A protéger les murs des roues des charrettes
- A indiquer les limites des propriétés.