

Données : les matières premières

Comment peut-on stocker des informations dans les ordinateurs?

En français, le mot ordinateur évoque l'idée d'un appareil servant à mettre de l'ordre (*ordo*, *ordinis* en latin), à classer des informations. Quant au terme anglais *computer*, il vient du latin *computare*, qui signifie calculer ou regrouper. Mais aujourd'hui les ordinateurs sont plus que des calculateurs géants. Ils peuvent servir de bibliothèque, nous aider à écrire, trouver des informations, jouer de la musique et même lire des films. Alors, comment stockent-ils toutes ces informations? Que vous le croyiez ou non, l'ordinateur n'utilise que deux éléments : le zéro et le un!

Quelle est la différence entre les données et les informations?

Les données sont la matière première, les nombres avec lesquels l'ordinateur travaille. Un ordinateur convertit ces données en informations (mots, nombres et images) que vous et moi pouvons comprendre.

Comment les nombres, lettres, mots et images peuvent-ils être convertis en une série de 0 et de 1?

Dans ce chapitre, nous apprendrons l'écriture binaire des nombres, comment les ordinateurs affichent des images, comment fonctionnent les télécopieurs, quelle est la méthode la plus efficace pour stocker de grandes quantités de données, comment éviter les erreurs et comment mesurer la quantité d'informations que nous voulons stocker.



Comment peut-on stocker des informations dans les ordinateurs ?

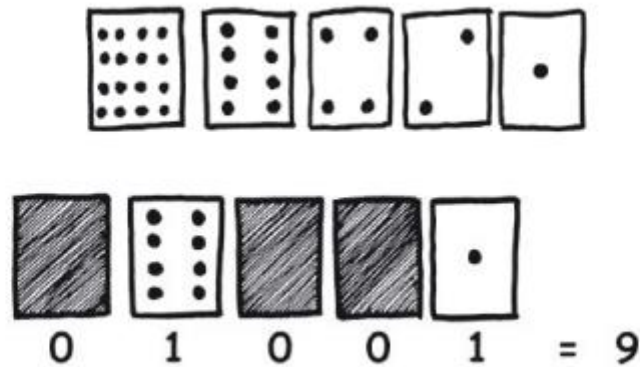
Compter dans le système binaire

7 ans et plus

Les ordinateurs sont plus que des calculateurs géants. Ils peuvent servir de bibliothèque, nous aider à écrire, trouver des informations, jouer de la musique et même lire des films. Alors, comment stockent-ils toutes ces informations ? Que vous le croyiez ou non, l'ordinateur n'utilise que deux éléments : le zéro et le un !

Mathématiques : Nombres. Étudier les nombres dans d'autres bases que la base 10. Représenter les nombres en base deux.

Principe :



Activité 1

Compter les points - *Écriture binaire des nombres*

Résumé

Les données de l'ordinateur sont stockées et transmises sous la forme d'une série de 0 et de 1. Comment peut-on représenter des mots et des nombres à l'aide de ces deux chiffres uniquement ?

Liens pédagogiques

- ✓ Mathématiques : nombres. Étudier les nombres dans d'autres bases que la base 10. Représenter les nombres en base deux.
- ✓ Mathématiques : algèbre. Continuer une séquence et décrire la règle qui la définit. Séquences et relations en puissances de deux.

Compétences

- ✓ Compter
- ✓ Regrouper
- ✓ Séquencer

Âge

- ✓ 7 ans et plus

Matériel

- ✓ Préparez, pour la démonstration, un jeu de cinq cartes binaires (voir page 6). Des cartes de format A4 avec des points, ou des « smileys » autocollants conviennent très bien.

Chaque enfant a besoin de :

- ✓ Un jeu de cinq cartes.
Photocopiez les cartes « L'écriture binaire des nombres » (page 6) sur du papier épais et découpez-les.
- ✓ L'exercice : L'écriture binaire des nombres (page 5)

Il existe des activités supplémentaires en option, pour lesquelles les enfants ont besoin des éléments suivants :


- ✓ L'exercice : Travailler en binaire (page 7)
- ✓ L'exercice : Envoyer des messages secrets (page 8)
- ✓ L'exercice : Télécopieurs et modems (page 9)
- ✓ L'exercice : Compter au-delà de 31 (page 10)
- ✓ L'exercice : En savoir plus sur l'écriture binaire des nombres (page 11)

L'écriture binaire des nombres

Introduction

Avant de distribuer l'exercice de la page 5, il peut être utile de présenter les principes de l'activité à toute la classe.

Pour cette activité, vous avez besoin de cinq cartes, comme montré ci-dessous, avec des points sur le recto mais rien sur le verso. Choisissez cinq enfants pour tenir les cartes de démonstration face à la classe. Les cartes doivent être dans l'ordre suivant :



Questions pour lancer la discussion

Que remarquez-vous à propos du nombre de points qui figure sur les cartes ? (Chaque carte a deux fois plus de points que la carte située à sa droite).

Combien de points devrait avoir la prochaine carte si nous devons en ajouter une à gauche ? (32) Et la suivante... ?

Nous pouvons utiliser ces cartes pour représenter des nombres : il faut en retourner certaines et additionner les points qui restent visibles. Demandez aux enfants d'afficher 6 (cartes 4 points et 2 points), puis 15 (cartes 8, 4, 2 et 1 points), puis 21 (16, 4 et 1), etc. Maintenant, essayez de compter à partir de zéro.

Le reste de la classe doit regarder attentivement comment les cartes pivotent, vous verrez ainsi si les enfants sont capables de reconnaître une séquence dans le retournement des cartes (chaque carte est retournée deux fois moins souvent que la carte située à sa droite). Vous pouvez faire le test avec plusieurs groupes d'élèves.

Lorsqu'une carte d'un nombre binaire n 'est **pas** visible, elle est représentée par un **0**. Lorsqu'elle **est** visible, elle est représentée par un **1**. C'est le système de numération binaire (l'écriture des nombres dans ce système se fera uniquement avec les caractères **0** et **1**, contrairement à l'écriture des nombres du système décimal qui utilise les chiffres de 0 à 9).



Demandez aux enfants d'afficher **01001**. Quel nombre représente-t-il dans le système décimal ? (9) Comment écrirait-on 17 en binaire ? (**10001**)

Essayez avec d'autres nombres jusqu'à ce qu'ils comprennent bien le principe.





Vous trouverez plus loin cinq exercices supplémentaires en option qui permettent de bien assimiler cette notion. Proposez aux enfants d'en faire le plus possible !

Compléments :

Les ordinateurs utilisent le système binaire pour représenter les informations. On dit **binaire** (comme **b**icyclette) parce qu'on se sert uniquement de **deux** chiffres **0** et **1**.

C'est ce qui permet de garder les informations dans la mémoire de l'ordinateur.

Essayons de comprendre :

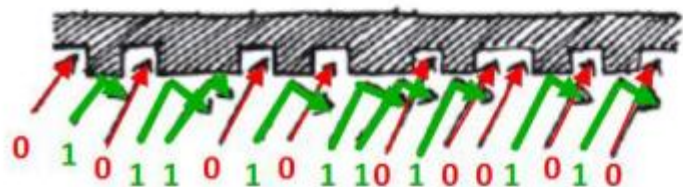
1		
0		
Feu vert : les voitures passent. Feu rouge : elles ne passent pas.		Le robinet est ouvert, l'eau coule. Le robinet est fermé, l'eau ne coule pas.



Si j'ai 5 robinets et que je les fais couler je peux représenter un nombre : **1 1 0 0 1** → 25











Il n'y a pas de robinets dans les ordinateurs mais de minuscules interrupteurs appelés « transistors » qui peuvent laisser passer ou pas le courant électrique. Si le courant passe c'est **1**. Si le courant ne passe pas c'est **0**. C'est ainsi que les ordinateurs peuvent conserver les informations.









La surface d'un CD ou d'un DVD permet de lire des **1** et des **0**. Dans les creux la lumière ne se reflète pas → **0**. Sur les bosses la lumière se reflète → **1**.














Prolongement 1 : fiche élève F1

Décoder coder des nombres en utilisant des symboles différents pour les valeurs 1 et 0

1			+			
0			x			

1		<input checked="" type="checkbox"/>	+			
0		<input checked="" type="checkbox"/>	x			

	Ecriture binaire	Nombre obtenu
	01001	9
    <p>++++x+</p>      <p>++++++</p> 		

A toi de choisir des symboles. Ecris ainsi des nombres en binaire puis demande à tes camarades de les décoder.

Exercice : L'écriture binaire des nombres


Apprendre à compter

Ainsi, tu croyais savoir compter ? Eh bien, voici une nouvelle méthode !

Savais-tu que les ordinateurs utilisent uniquement le **0** et le **1** ? Tout ce que tu entends ou vois sur l'ordinateur – les mots, les images, les nombres, les films et même les sons – est stocké à l'aide de ces deux chiffres uniquement ! Ces exercices t'apprendront à envoyer des messages secrets à tes amis à l'aide d'une méthode exactement identique à celle d'un ordinateur.


Consignes

Découpe les cartes de ta fiche et pose-les de gauche à droite en commençant par celle de 16 points, comme ci-dessous :



Assure-toi que les cartes sont placées exactement dans le même ordre.


À présent, retourne les cartes de manière à laisser exactement 5 points visibles – conserve les cartes toujours dans le même ordre !



Trouve comment obtenir 3, 12, 19. Existe-t-il plusieurs moyens d'obtenir un nombre ? Quel est le plus grand nombre que tu peux obtenir ? Quel est le plus petit ? Y a-t-il un nombre compris entre le plus grand et le plus petit que tu ne puisses pas obtenir ?

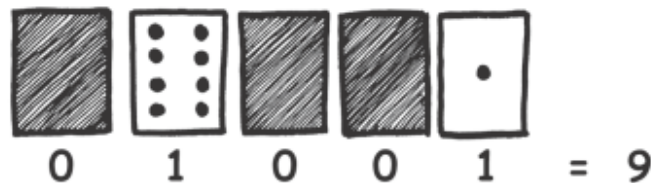
Pour les plus forts : Essaie d'obtenir les nombres 1, 2, 3, 4 dans l'ordre. Peux-tu établir une méthode logique et fiable permettant de retourner les cartes pour augmenter le nombre d'une unité ?

À photocopier : L'écriture binaire des nombres



Exercice : Travailler en binaire

Le système binaire utilise **0** et **1** pour représenter soit le recto, soit le verso d'une carte.
0 désigne le verso de la carte et **1** désigne le recto de la carte, sur lequel on voit les points.
 Par exemple :



Peux-tu trouver combien fait **10101** ? Et **11111** ?

Quel est le jour de ton anniversaire ? Si tu es né(e) un 29 juillet par exemple, écris 29 en binaire.
 Trouve comment les jours d'anniversaire de tes amis s'écrivent en binaire.

Déchiffre ces nombres codés :

$$\begin{matrix} \boxtimes & \checkmark & \boxtimes & \boxtimes & \checkmark \\ (\checkmark=1, \boxtimes=0) \end{matrix} =$$

$$\begin{matrix} \uparrow & \downarrow & \uparrow \\ (\uparrow=1, \downarrow=0) \end{matrix} =$$

$$\begin{matrix} \odot & \odot & \odot & \odot & \odot \\ (\odot=1, \circ=0) \end{matrix} =$$

$$\begin{matrix} \boxplus & \boxminus \\ (\boxplus=1, \boxminus=0) \end{matrix} =$$

$$\begin{matrix} \text{☺} & \text{☹} \\ (\text{☺}=1, \text{☹}=0) \end{matrix} =$$

$$\begin{matrix} \text{👍} & \text{👍} & \text{👍} & \text{👍} \\ (\text{👍}=1, \text{👎}=0) \end{matrix} =$$

$$\begin{matrix} + & + & \times & + \\ (+=1, \times=0) \end{matrix} =$$

$$\begin{matrix} \cup & \cup & \cup & \cup & \cup \\ (\cup=1, \cap=0) \end{matrix} =$$

$$\begin{matrix} \blacktriangle & \blacktriangledown & \blacktriangle & \blacktriangledown & \blacktriangledown \\ (\blacktriangle=1, \blacktriangledown=0) \end{matrix} =$$

$$\begin{matrix} \spadesuit & \spadesuit & \spadesuit & \spadesuit & \spadesuit \\ (\spadesuit=1, \clubsuit=0) \end{matrix} =$$


Pour les plus forts : À l'aide de bâtonnets de 1, 2, 4, 8 et 16 unités de longueur, montre comment tu peux obtenir toutes les longueurs jusqu'à 31 unités.

Tu pourrais aussi surprendre un adulte en lui montrant comment une balance et quelques poids suffisent à peser des valises ou des cartons très lourds !

Exercice : Envoyer des messages secrets

Tom est pris au piège à l'étage supérieur d'un grand magasin. Noël approche et il veut rentrer à la maison avec ses cadeaux. Que peut-il faire ? Il a essayé d'appeler, et même de crier, mais il n'y a plus personne. Il peut voir de l'autre côté de la rue quelqu'un qui travaille à l'ordinateur tard ce soir. Comment pourrait-il attirer son attention ? Tom regarde autour de lui et cherche ce qu'il pourrait utiliser. Il a alors une brillante idée : il peut utiliser les lumières de l'arbre de Noël pour lui envoyer un message ! Il trouve toutes les lumières et les branche de manière à pouvoir les allumer et les éteindre. Il utilise un code binaire simple, dont il est sûr que la personne de l'autre côté de la rue le comprendra.

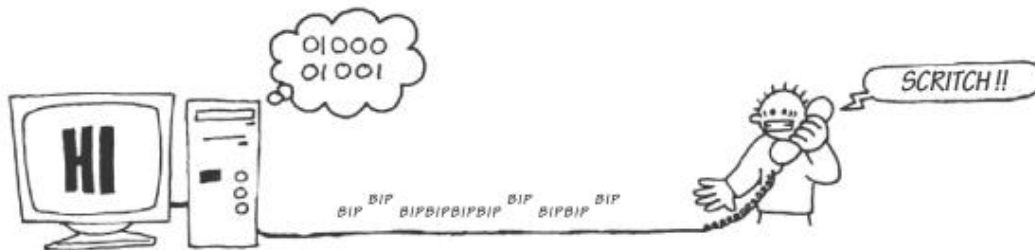
Pouvez-vous le trouver ?



1	2	3	4	5	6	7	8	9	10	11	12	13
a	b	c	d	e	f	g	h	i	j	k	l	m
14	15	16	17	18	19	20	21	22	23	24	25	26
n	o	p	q	r	s	t	u	v	w	x	y	z

Exercice : Télécopieurs et modems

Les ordinateurs sont connectés à Internet via un modem qui utilise aussi le système binaire pour envoyer des messages. La seule différence est que les modems téléphoniques utilisent des bips. Un bip aigu est utilisé pour le **1** et un bip grave pour le **0**. Ces sons vont très vite. Si vite en fait que ce que nous entendons est un horrible son continu et strident. Si vous ne l'avez jamais entendu, essayez d'appeler un fax (il utilise également un modem pour envoyer les informations). Les « box » sont des modems ADSL qui utilisent aussi le système binaire, mais on n'entend plus ce son.



À l'aide du code utilisé par Tom dans le grand magasin, essaie d'envoyer un message à un ami. Reste simple, pour toi et ton ami. Tu n'as pas besoin d'être aussi rapide qu'un vrai modem !



Exercice : Compter au-delà de 31

Observe à nouveau les cartes binaires. Si tu devais créer la carte suivante pour compléter la séquence, combien de points aurait-elle ? Et la suivante ? Quelle règle appliques-tu pour créer les nouvelles cartes ? Comme tu peux le voir, tu n'as besoin que de quelques cartes pour obtenir de très grands nombres.

Si tu regardes cette suite attentivement, tu y trouveras un rapport très intéressant :

1, 2, 4, 8, 16...

Additionne $1 + 2 + 4 = ?$ Combien obtiens-tu ?

Et maintenant additionne $1 + 2 + 4 + 8 = ?$


Que se passe-t-il si tu additionnes tous les nombres de points depuis le début ?

Si tu comptes sur tes doigts comme à la maternelle, tu ne pourras pas aller au-delà de dix, à moins d'être un extraterrestre ! Par contre, si tu utilises le système binaire et que chaque doigt représente une des cartes, tu peux compter de 0 à 31, ce qui fait 32 nombres ! (N'oublie pas que le zéro aussi est un nombre !)

Essaie de compter dans l'ordre sur tes doigts. Un doigt représente le **1** s'il est relevé ou le **0** s'il ne l'est pas.

En utilisant tes deux mains, tu peux en fait compter de 0 à 1023, c'est-à-dire 1024 nombres !

Si tes orteils étaient très souples (mais là oui, tu serais un extraterrestre) tu pourrais compter encore plus loin. Si tu peux compter 32 nombres sur une main, et $32 \times 32 = 1024$ nombres sur les deux mains, quel est le plus grand nombre que la dame aux orteils souples peut atteindre ?



Exercice : En savoir plus sur l'écriture binaire des nombres

1. On observe une autre propriété intéressante des nombres binaires en plaçant un 0 à droite de l'écriture binaire d'un nombre. Si nous travaillons en base dix (écriture décimale), placer un 0 à droite du nombre revient à le multiplier par 10. Par exemple, 9 devient 90, 30 devient 300. Mais que se passe-t-il en ajoutant 0 à droite d'un nombre écrit en binaire ? Essaie avec l'exemple ci-dessous :

$$\begin{array}{ccc} 1001 & \rightarrow & 10010 \\ (9) & & (?) \end{array}$$

Essaie avec d'autres exemples pour confirmer tes hypothèses. Quelle règle observes-tu ? D'après toi, à quoi est-ce dû ?

2. Chacune des cartes que nous avons utilisées jusqu'à maintenant représente un « bit » sur l'ordinateur (« bit » est la contraction de « *binary digit* », qui signifie chiffre binaire). Ainsi, le code alphabétique que nous avons utilisé précédemment peut être représenté grâce à seulement cinq cartes, ou « bits ». Cependant, un ordinateur doit savoir si les lettres sont en majuscules ou non et doit également reconnaître les chiffres, la ponctuation et les caractères accentués ou spéciaux comme € ou ~.

Observe le clavier d'un ordinateur et compte combien de caractères l'ordinateur doit représenter. De combien de bits l'ordinateur a-t-il besoin pour stocker tous ces caractères ?

La plupart des ordinateurs utilisent aujourd'hui le système de représentation ASCII (*American Standard Code for Information Interchange* qui signifie Code américain normalisé pour l'échange d'informations) qui est basé sur l'utilisation de ce nombre de bits pour chaque caractère. Mais certains pays non anglophones utilisent des codes plus longs.

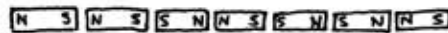


Ce qu'il faut retenir

Aujourd'hui, les ordinateurs utilisent le système binaire pour représenter les informations. Ce système tient son nom du fait qu'il n'utilise que deux chiffres différents : **0** et **1**. Il est également connu sous le nom « base deux » (l'homme utilise habituellement la base dix). Chaque **0** et **1** est appelé un *bit* (*binary digit*). Un bit est généralement représenté dans la mémoire principale de l'ordinateur par un transistor qui est activé ou désactivé, ou un condensateur qui est chargé ou déchargé.



Lorsque des données doivent être transmises par une ligne téléphonique ou par liaison radio, des sons graves et aigus représentent les **1** et les **0**. Sur des disques magnétiques (disquettes ou disques durs) et des bandes, les bits sont représentés par la direction (nord-sud ou sud-nord) d'un champ magnétique sur une surface.



Sur les CD audio, CD-Rom et DVD, les bits sont stockés de manière optique : la partie de la surface correspondant au bit reflète ou ne reflète pas la lumière.



Un bit ne peut pas représenter beaucoup d'information à lui tout seul. Ils sont donc regroupés, généralement par huit, ce qui représente des nombres allant de 0 à 255. Un groupe de huit bits s'appelle un octet (*byte*, en anglais).

La vitesse d'un ordinateur dépend du nombre de bits qu'il peut traiter à un même moment. Par exemple, un ordinateur 32 bits peut traiter des nombres de 32 bits en une seule opération, alors qu'un ordinateur 16 bits doit traiter les nombres de 32 bits en plusieurs fois, ce qui le ralentit.

Enfin, les bits et les octets sont les seuls éléments dont l'ordinateur a besoin pour stocker et transmettre des nombres, du texte et tout autre type d'informations. Dans les activités suivantes, nous verrons comment d'autres types d'informations peuvent être représentées sur un ordinateur.



ATTENTION !
LA DAME AUX ORTEILS SOUPLES
EST UNE PROFESSIONNELLE BIEN ENTRAÎNÉE.
PERSONNE NE PEUT FLIER
SES ORTEILS AUSSI FACILEMENT !

Solutions et astuces

L'écriture binaire des nombres (page 5)

3 s'obtient par les cartes 2 et 1

12 s'obtient par les cartes 8 et 4

19 s'obtient par les cartes 16, 2 et 1

Il n'existe qu'une seule manière d'obtenir un nombre donné.

Le plus grand nombre possible est 31. Le plus petit est 0. Tous les nombres entre 0 et 31 sont possibles et chacun ne peut être représenté en binaire que d'une seule manière.

Pour les plus forts : Pour ajouter 1 à un nombre, retournez les cartes de la droite vers la gauche : si la première carte a au départ la face 1 visible, retournez-la, puis si la 2^e carte a au départ la face 1 visible, retournez-la, etc., jusqu'à arriver à la première carte dont la face 0 est visible, que vous retournez pour montrer sa face 1. Vous vous arrêtez dès que vous avez retourné une carte de 0 vers 1.

Travailler en binaire (page 7)

$$10101 = 21$$

$$11111 = 31$$

Remarque : les nombres à droite et à gauche du signe = sont égaux ; ce sont leurs écritures qui diffèrent.

Envoyer des messages secrets (page 8)

Message codé : SOS OUVREZ MOI

Compter au-delà de 31 (page 10)

Si tu additionnes les nombres depuis le début, la somme sera toujours inférieure de un au nombre suivant de la séquence.

La dame aux orteils souples peut compter $1\,024 \times 1\,024 = 1\,048\,576$ nombres, de 0 à 1 048 575 !

En savoir plus sur l'écriture binaire des nombres (page 11)

Ajouter un 0 à droite de l'écriture binaire d'un nombre multiplie ce nombre par deux.

Toutes les cartes représentées par un 1 ont le double de la valeur qu'elles représentaient précédemment et le nombre total est également doublé. Alors qu'en base dix (écriture décimale), ajouter un 0 à droite multiplie le nombre par dix.

Un ordinateur a besoin de 7 bits pour stocker tous les caractères. Cela permet jusqu'à 128 caractères. Généralement, les 7 bits sont stockés sur un octet de 8 bits ; un bit n'est pas utilisé.

Prolongement 2 fiche élève F2:

Les messages secrets : A partir de ce tableau, il est possible de s'échanger des messages secrets en utilisant l'écriture binaire des nombres :

1	2	3	4	5	6	7	8	9	10	11	12	13
a	b	c	d	e	f	g	h	i	j	k	l	m
14	15	16	17	18	19	20	21	22	23	24	25	26
n	o	p	q	r	s	t	u	v	w	x	y	z

Exemple :

A=1 → 00001 P=16 → 10000 PAPA → 10000 00001 10000 00001

Invente un court message secret et fais le décoder par un camarade.

F2

Les messages secrets : A partir de ce tableau, il est possible de s'échanger des messages secrets en utilisant l'écriture binaire des nombres :

1	2	3	4	5	6	7	8	9	10	11	12	13
a	b	c	d	e	f	g	h	i	j	k	l	m
14	15	16	17	18	19	20	21	22	23	24	25	26
n	o	p	q	r	s	t	u	v	w	x	y	z

Exemple :

A=1 → 00001 P=16 → 10000 PAPA → 10000 00001 10000 00001

Invente un court message secret et fais le décoder par un camarade.

F2

Les messages secrets : A partir de ce tableau, il est possible de s'échanger des messages secrets en utilisant l'écriture binaire des nombres :

1	2	3	4	5	6	7	8	9	10	11	12	13
a	b	c	d	e	f	g	h	i	j	k	l	m
14	15	16	17	18	19	20	21	22	23	24	25	26
n	o	p	q	r	s	t	u	v	w	x	y	z

Exemple :

A=1 → 00001 P=16 → 10000 PAPA → 10000 00001 10000 00001

Prolongement 3 :

- **fiche page 8** (même type de message secret).
- **fiche page 9** (fonctionnement du télécopieur et du modem).

Comment compter au-delà de 31 ? Fiche élève F3

Déroulement si on souhaite mener la réflexion collectivement : page 10

La fiche suivante est proposée si l'on veut que les élèves mènent la réflexion seuls ou en binômes.

Pour l'enseignant :**Pourquoi les ordinateurs utilisent-ils le binaire ?**

Les langages de programmation sont écrits pour être compris par les programmeurs. Ils utilisent une syntaxe, un vocabulaire, des opérations logiques que la machine ne peut pas comprendre directement.

Une fois le programme écrit, il doit être « traduit » pour que l'ordinateur puisse le comprendre et exécuter les instructions. C'est l'étape de compilation et d'assemblage.

La machine ne comprend que deux choses : soit je fais, soit je ne fais pas... Toutes les opérations les plus complexes d'un programme doivent s'organiser dans une suite de « je fais, je ne fais pas ».

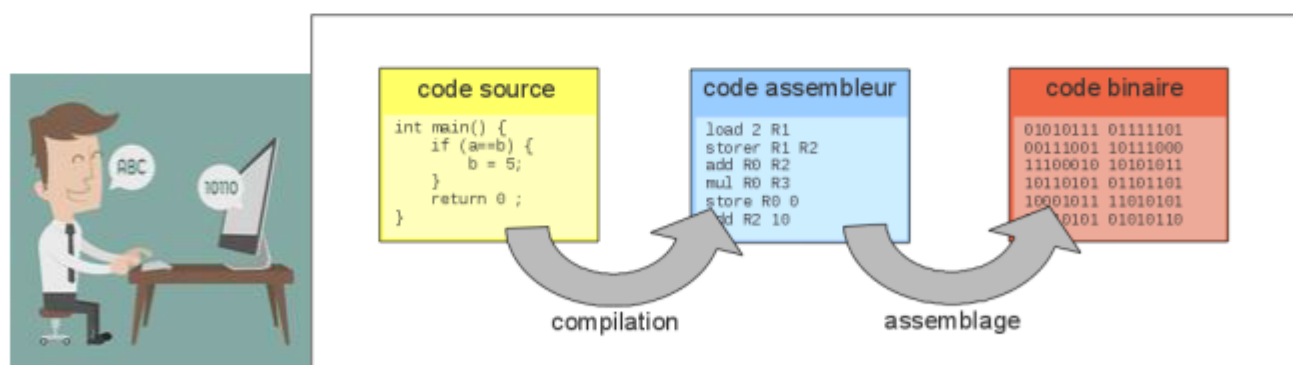
Je fais **1**, je ne fais pas **0**. → binaire.

Dans un ordinateur, les mots binaires représentent le codage de l'information. Ces mots binaires sont stockés dans les mémoires de l'ordinateur et sont véhiculés par des bus (fils conducteurs isolés entre eux).

Le regroupement de 8 chiffres binaires est nommé octet (Byte). Plus précisément, un octet, c'est 8 bits et un bit signifie « binary digit » c'est-à-dire 0 ou 1.


Un ordinateur est un circuit électronique où circule de la tension électrique. Le binaire représente les états logiques (états d'équilibre) de l'ordinateur traduit par 1, s'il y a une tension, ou 0 en absence de tension.

(d'après une vidéo SUPINFO)



Lorsque tu comptes sur tes doigts, tu peux compter jusqu'à 10.

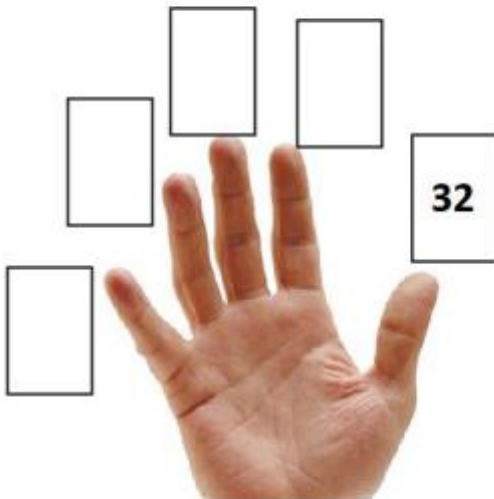
Mais si tu comptes sur tes doigts en utilisant le système binaire :



Sur une main tu peux compter jusqu'à :

1+2+4... Continue le calcul :

$$1 + 2 + _ + _ + _ = _$$



Et si tu te sers de l'autre main :

Sur le pouce tu comptes 32

Sur l'index tu comptes $_$


Sur le majeur tu comptes $_$

Sur l'annulaire tu comptes $_$

Sur l'auriculaire tu comptes $_$

En tout sur les deux mains tu peux compter jusqu'à :

$$1+2+ _ + _ + _ + _ + _ + _ + _ + _ = _$$



Et si tu pouvais aussi compter sur tes pieds... jusqu'à combien pourrais-tu compter ? Tu peux utiliser une calculatrice si tu veux.